

DANS CE CADRE

Académie :	Session :
Examen :	Série :
Spécialité/option :	Repère de l'épreuve :
Epreuve/sous épreuve :	
NOM :	
(en majuscule, suivi s'il y a lieu, du nom d'épouse)	
Prénoms :	N° du candidat
Né(e) le :	
(le numéro est celui qui figure sur la convocation ou liste d'appel)	

NE RIEN ÉCRIRE

Appréciation du correcteur

Note :

Il est interdit aux candidats de signer leur composition ou d'y mettre un signe quelconque pouvant indiquer sa provenance.

# CAP

## PRÉVENTION, SANTÉ, ENVIRONNEMENT

### SESSION 2016

**DURÉE : 1 H 00 maximum**

**Les candidats répondent directement sur le sujet.**

**Aucun document n'est autorisé.**

### COEFFICIENT : 1

Ce sujet comporte 12 pages numérotées de 1/12 à 12/12.

Assurez-vous que cet exemplaire est complet.

S'il est incomplet, demandez un autre exemplaire au chef de salle.

	Barème	Notation
<b>Partie 1</b>	/ 10 points	
<b>Partie 2.1</b>	/ 8 points	
<b>Partie 2.2</b>	/ 2 points	
<b>Total</b>	20 points	

CAP	Code : 16-021	Session 2016	<b>SUJET</b>
Épreuve : Prévention, Santé, Environnement	Durée : 1 heure	Coefficient 1	Page 1/12

# NE RIEN ÉCRIRE DANS CETTE PARTIE

## PARTIE 1 – 10 points

### Situation 1

Théo, 18 ans, vient d'obtenir son CAP Coiffure et désire poursuivre ses études. Il souhaite compléter sa formation professionnelle et ouvrir son propre salon dans quelques années. Deux possibilités s'offrent à lui : continuer au lycée professionnel en Mention Complémentaire « Coiffure Coupe Couleur » ou préparer un Brevet Professionnel en alternance, dans un Centre de Formation des Apprentis.

1.1 Identifier le problème posé en cochant la bonne réponse :

- ☐ Théo veut ouvrir un salon de coiffure tout de suite après son CAP.
- ☐ Théo veut poursuivre sa formation professionnelle.
- ☐ Théo cherche un apprentissage.

1.2 Repérer les éléments de la situation en complétant le tableau suivant :

	Éléments de la situation
Qui ?	
Quoi ? (Que désire-t-il ?)	
Où ?	
Quand ?	
Comment ? (Quelles sont les possibilités offertes ?)	
Pourquoi ? (Quels sont les objectifs de sa démarche ?)	

1.3 Donner la signification du sigle CAP.

.....

## NE RIEN ÉCRIRE DANS CETTE PARTIE

Document 1 : Échelle des niveaux de qualifications professionnelles

Niveaux de qualification	Formations correspondantes
VI	Scolarité obligatoire (16 ans)
V	CAP ou BEP ou équivalent
IV	Baccalauréat (général, technologique ou professionnel) ou équivalent
III	BAC+2 : BTS (Brevet de Technicien Supérieur) ou DUT (Diplôme Universitaire de Technologie) ou équivalent
II	BAC+3/4 (licence, master 1) ou équivalent
I	BAC+5 et au-delà (master 2, ingénieur) ou équivalent

**1.4** À l'aide du document 1, indiquer le niveau de qualification du CAP en cochant la bonne réponse.

☐ niveau I   ☐ niveau II   ☐ niveau III   ☐ niveau IV   ☐ niveau V   ☐ niveau VI

Document 2 : Article L6111-1 du Code du Travail

Source : [www.legifrance.gouv.fr](http://www.legifrance.gouv.fr)

La formation professionnelle tout au long de la vie constitue une obligation nationale. Elle vise à permettre à chaque personne, indépendamment de son statut, d'acquérir et d'actualiser des connaissances et des compétences favorisant son évolution professionnelle, ainsi que de progresser d'au moins un niveau de qualification au cours de sa vie professionnelle. Elle constitue un élément déterminant de sécurisation des parcours professionnels et de la promotion des salariés. Une stratégie nationale coordonnée est définie et mise en œuvre par l'Etat, les régions et les partenaires sociaux.

Elle comporte une formation initiale, comprenant notamment l'apprentissage, et des formations ultérieures, qui constituent la formation professionnelle continue, destinées aux adultes et aux jeunes déjà engagés dans la vie active ou qui s'y engagent.

**1.5.1** À l'aide du document 2, indiquer le type de formation professionnelle correspondant au cas de Théo.

.....

**1.5.2** Souligner, dans le document 2, les buts de la formation professionnelle tout au long de la vie pour un salarié.

## NE RIEN ÉCRIRE DANS CETTE PARTIE

Théo connaît Karine depuis quelques mois, ils veulent tous les deux débiter leur vie sexuelle sans risque d'IST ni de grossesse non désirée.

**1.6** Proposer un moyen de contraception convenant à la situation de Théo et Karine. Justifier votre réponse.

.....

.....

**1.7** Citer deux exemples d'infections sexuellement transmissibles.

- .....
- .....

## NE RIEN ÉCRIRE DANS CETTE PARTIE

Document 3 : Extrait de la brochure « Trou de mémoire »

Source : INPES

**49%** des personnes dont le sida a été diagnostiqué en 2003 ignoraient leur séropositivité, excluant toute prise en charge précoce de leur infection.

### JOUEZ LA CARTE DU DÉPISTAGE

- **En cas de prise de risque :** rapport sexuel sans préservatif avec une personne de statut sérologique inconnu ou accident de préservatif pendant le rapport sexuel (déchirement ou glissement). Un premier test de dépistage du VIH/sida peut être réalisé quinze jours minimum après la prise de risque.
- **Et si vous souhaitez abandonner le préservatif dans le cadre d'une relation stable**

Consultez votre médecin traitant ou un médecin dans une consultation de dépistage anonyme et gratuit (CDAG). Il existe au moins une CDAG par département.  
Pour connaître l'adresse de la CDAG la plus proche :  
Sida info service 0 800 840 800 ou [www.sida-info-service.org](http://www.sida-info-service.org)

 Ministère de la Santé et de la Protection sociale

 Institut National de Prévention et d'Éducation pour la Santé  
**inpès**  
[www.inpes.santé.fr](http://www.inpes.santé.fr)

1.8.1 Relever, dans le document 3, deux situations nécessitant un dépistage du SIDA.

➤ .....

➤ .....

1.8.2 Justifier l'utilité de ce dépistage.

.....

.....

1.8.3 Citer une structure d'accueil, d'aide et de soutien concernant les IST.

.....

## NE RIEN ÉCRIRE DANS CETTE PARTIE

Le responsable du salon de coiffure où Théo a effectué ses périodes de formation en milieu professionnel (PFMP) lui propose de signer un contrat d'apprentissage de 2 ans pour préparer le Brevet Professionnel, à compter du 1<sup>er</sup> août.  
Lors de la signature du contrat, l'employeur rappelle à Théo les dispositions prévues par la loi concernant la consommation de substances psychoactives au travail.

**1.9** La consommation de substances psychoactives peut entraîner une conduite addictive. Définir le terme souligné.

.....

.....

.....

**1.10** Indiquer deux conséquences de la consommation de substances psychoactives :

- sur le travail du salarié :

- .....
- .....

- sur le fonctionnement de l'entreprise :

- .....
- .....

## NE RIEN ÉCRIRE DANS CETTE PARTIE

Théo invite Karine au restaurant d'IKEA. Ce jour, le plat de boulettes de viande n'est pas disponible.

Document 4 : Article de presse  
Source : Le Monde 26/04/2013

### **Ikea suspend la vente de boulettes de viande après des malaises.**

***Après les tartes au chocolat, l'enseigne Ikea a suspendu vendredi de la vente des boulettes de viande, deux familles en ayant consommé dans son restaurant de Lisses (Essonne) ayant connu des malaises.***

Dans son communiqué, le géant du meuble précise qu'il s'agit d'une « *mesure de précaution* » alors que deux lots de boulettes de viande sont en cours d'analyse. Prises mercredi de vomissements et de diarrhées immédiatement après avoir consommé ces boulettes, les familles en question ne sont pas en danger, selon Ikea. Elles ont été conduites à l'hôpital pour y subir des examens et en sont sorties jeudi.

Le parquet d'Évry, qui a saisi la Direction départementale de protection de la population, a indiqué avoir ouvert une enquête préliminaire afin d'établir un éventuel lien entre la consommation de ces boulettes et les malaises. Les résultats de prélèvements envoyés à deux laboratoires différents doivent être connus lundi.

**1.11.1** Repérer et souligner, dans le document 4, l'action présentant le « principe de précaution ».

**1.11.2** Justifier l'intérêt de cette action.

.....  
.....

**1.11.3** Relever, dans le document 4, le nom de l'organisme public chargé de la sécurité alimentaire.

.....




## NE RIEN ÉCRIRE DANS CETTE PARTIE

En faisant ses courses, Théo repère, sur les étiquettes de certains produits, les signes de qualité.

1.12 Attribuer à chaque signe de qualité ci-dessous, deux aliments de la liste suivante :

- farine,
- saumon fumé,
- jambon de Bayonne,
- poulet,
- camembert de Normandie,
- crème dessert.

Chaque aliment n'est présent qu'une seule fois dans le tableau.

Signes de qualité	Aliments
	-  -
	-  -
	-  -



# NE RIEN ÉCRIRE DANS CETTE PARTIE

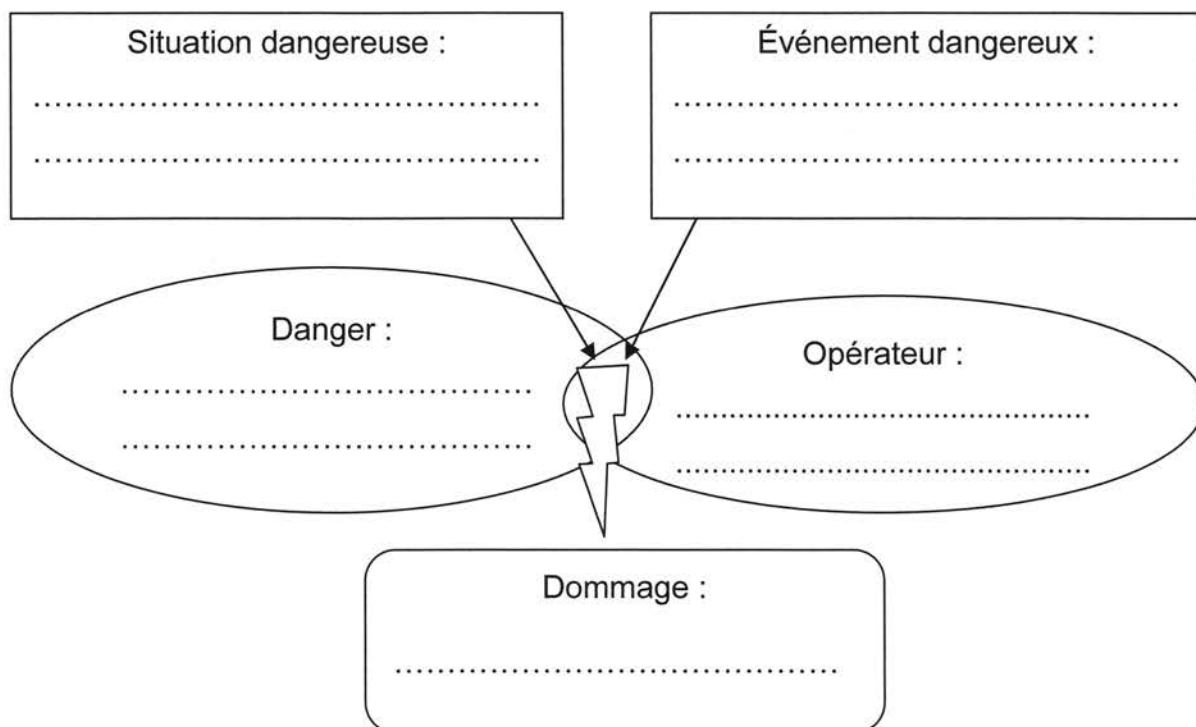
## PARTIE 2 – 10 points

### PARTIE 2.1 – 8 points

#### Situation 2

Karine, employée de libre-service, est salariée, dans un hypermarché comprenant 59 employés. Elle est chargée de l'approvisionnement du rayon fruits et légumes. Elle manipule fréquemment des charges lourdes : des cagettes de pommes de 15 kg.

2.1.1 À l'aide des éléments soulignés et de vos connaissances, complétez le schéma d'apparition du dommage ci-dessous.



Karine est victime d'un accident du travail. En effet, elle ressent une douleur vive et brutale dans le bas du dos, empêchant tout mouvement.

2.1.2 Indiquer la démarche que doit faire l'employée. Préciser le délai à respecter.

.....

2.1.3 Indiquer la démarche que doit faire son employeur. Préciser le délai à respecter.

.....

## NE RIEN ÉCRIRE DANS CETTE PARTIE

Document 5 : Prévention des risques liés aux manutentions manuelles.

Source : [www.inrs.fr](http://www.inrs.fr)

### ***Supprimer les manutentions inutiles et alléger les charges***



Tous secteurs confondus, les manutentions manuelles figurent chaque année parmi les principales causes d'accidents du travail et de maladies professionnelles. Les objectifs en termes de prévention ? Agir en priorité sur les opérations de manutention manuelle inutiles ou qui peuvent être facilement évitées, en mettant notamment à disposition des aides à la manutention. Dans les autres cas, alléger la charge.

Les hommes jeunes, ouvriers et intérimaires sont particulièrement exposés aux risques qu'elles représentent. Le bâtiment et l'industrie sont les secteurs où les manutentions sont les plus fréquentes. Mais les travailleurs des commerces de détail et les professionnels de santé ne sont pas épargnés.

### ***Risques liés à la charge physique de travail***

Le fait de porter, pousser, tirer, lever, poser ou déposer des charges (même peu lourdes) implique des efforts physiques et parfois des positions de travail inconfortables (contraintes posturales). Effectuées à un rythme soutenu, ou de façon répétitive, les manutentions sollicitent à l'excès les os, les articulations ou encore les tendons et les muscles.

**2.1.4** En vous aidant du document 5, donner une définition de la manutention manuelle.

.....

.....

.....

**2.1.5** Relever, dans le document 5, les deux secteurs professionnels où les manutentions sont les plus fréquentes.

- .....
- .....

**2.1.6** Proposer, à l'aide du document 5, deux mesures de prévention des risques liés à la charge physique du travail.

- .....
- .....

## NE RIEN ÉCRIRE DANS CETTE PARTIE

Suite à cet accident, le CHSCT de l'entreprise de Karine mène une enquête.

**2.1.7** Donner la signification du sigle CHSCT.

.....

**2.1.8** À partir de la situation de Karine, indiquer si le CHSCT est obligatoire dans son entreprise. Justifier votre réponse.

.....

À la fin de son arrêt de travail, Karine est convoquée par le médecin du travail pour une visite de reprise.

**2.1.9** Indiquer un autre type de visite médicale obligatoire.

.....

**2.1.10** Cocher les situations relevant des missions du médecin du travail.

- ☐ Il délivre un arrêt de travail de 5 jours à un salarié.
- ☐ Il assiste à une réunion du CHSCT dans une entreprise.
- ☐ Il propose des mesures de prévention contre le bruit.
- ☐ Il délivre une ordonnance de médicaments à un salarié.
- ☐ Il reçoit, au cours d'une visite de reprise, une salariée après un congé de maternité.
- ☐ Il donne son avis sur un plan de licenciement dans une entreprise.
- ☐ Il propose un aménagement du poste de travail d'un salarié handicapé.

## NE RIEN ÉCRIRE DANS CETTE PARTIE

### PARTIE 2.2 – 2 points

En entrant dans la réserve de l'hypermarché peu éclairée, Patrick ne voit pas la flaque d'huile répandue sur le sol. Un carton de bouteilles d'huile est tombé du transpalette lors de son transport vers le rayon.

Patrick glisse et, dans sa chute, sa tête frappe le sol. Il est inconscient mais respire. Un collègue SST, présent sur les lieux, lui porte secours.

**2.2.1** Nommer, à l'aide de quatre verbes à l'infinitif, les actions menées par le collègue de Patrick (respecter l'ordre chronologique).

- ① .....
- ② .....
- ③ .....
- ④ .....

**2.2.2** Indiquer le geste de secours qui doit être pratiqué dans cette situation d'accident.

.....

**2.2.3** Proposer une mesure de prévention pour que ce type d'accident ne se reproduise pas.

.....

.....

**CAP**  
**PRÉVENTION, SANTÉ, ENVIRONNEMENT**  
**SESSION 2016**

**DURÉE : 1 H 00 maximum**

**CORRIGÉ**

CAP	Code : 16-021	Session 2016	<b>CORRIGÉ</b>
Épreuve : Prévention, Santé, Environnement	Durée : 1 heure	Coefficient : 1	Page 1/8



## PARTIE 1 – 10 POINTS

1.1 Identifier le problème posé en cochant la bonne réponse :

0,25 point

- ☐ Théo veut ouvrir un salon de coiffure tout de suite après son CAP.  
☒ **Théo veut poursuivre sa formation professionnelle.**  
☐ Théo cherche un apprentissage.

1.2 Repérer les éléments de la situation en complétant le tableau suivant : 1,5 point = 6 x 0,25

	Éléments de la situation
Qui ?	Théo, 18 ans
Quoi ? (Que désire-t-il ?)	Poursuivre ses études. / <i>compléter sa formation</i>
Où ?	Au Lycée Professionnel <u>ou</u> Unité de Formation des Apprentis <u>ou</u> Centre de Formation des Apprentis.
Quand ?	Après le CAP.
Comment ? (Quelles sont les possibilités offertes ?)	<ul style="list-style-type: none"> <li>- Mention Complémentaire en LP</li> <li>- Brevet Professionnel en alternance</li> </ul> <p>Les deux réponses doivent être données.</p>
Pourquoi ? (Quels sont les objectifs de sa démarche ?)	Compléter sa formation professionnelle <i>et</i> ouvrir son propre salon dans quelques années.

1.3 Donner la signification du sigle CAP.

0,25 point

### Certificat d'Aptitude Professionnelle

1.4 À l'aide du document 1, indiquer le niveau de qualification du CAP en cochant la bonne réponse.

0,5 point

- ☐ niveau I    ☐ niveau II    ☐ niveau III    ☐ niveau IV    ☒ **niveau V**    ☐ niveau VI

1.5.1 À l'aide du document 2, indiquer le type de formation professionnelle correspondant au cas de Théo.

0,5 point

### Formation initiale

1.5.2 Souligner, dans le document 2, les buts de la formation professionnelle tout au long de la vie pour un salarié.

0,5 point (0 pt si autre élément souligné)

*0,25 si seule une partie de sa ligne*

Elle vise à permettre à chaque personne, indépendamment de son statut, d'acquérir et d'actualiser des connaissances et des compétences favorisant son évolution professionnelle, ainsi que de progresser d'au moins un niveau de qualification au cours de sa vie professionnelle.

*4 - 0,25*

CAP	Code : 16-021	Session 2016	CORRIGÉ
Épreuve : Prévention, Santé, Environnement	Durée : 1 heure	Coefficient : 1	Page 2/8

- 1.6 Proposer un moyen de contraception convenant à la situation de Théo et Karine. Justifier votre réponse. 0,5 point = 2 x 0,25

**Le préservatif (0,25 pt). Il protège à la fois de la grossesse et des IST (0,25 pt).**

- 1.7 Citer deux exemples d'infections sexuellement transmissibles.

0,5 point = 2 x 0,25 (2 réponses au choix ou toute autre réponse cohérente)

**SIDA, syphilis, blennorragie ou chaude pisse, herpès génital, chlamydiae, condylome, hépatite B, ...**

- 1.8.1 Relever, dans le document 3, deux situations nécessitant un dépistage du SIDA.

0,5 point = 2 x 0,25

- En cas de prise de risque (rapport sexuel sans préservatif avec une personne de statut sérologique inconnu).
- En cas de prise de risque (accident de préservatif pendant le rapport sexuel).
- Si vous souhaitez abandonner le préservatif dans le cadre d'une relation stable.

- 1.8.2 Justifier l'utilité de ce dépistage.

0,5 point (1 réponse au choix ou toute autre réponse cohérente)

**Bénéficier d'une prise en charge précoce de l'infection (traitement préventif).**

**Prévenir, éviter de contaminer son partenaire.**

*savoir si on est malade*

- 1.8.3 Citer une structure d'accueil, d'aide et de soutien concernant les IST.

0,25 point (1 réponse au choix ou toute autre réponse cohérente)

*Centre hospitalier, hôpital*

**SIDA Info Service (site ou téléphone), AIDES, CDAG (Consultation de Dépistage Anonyme et Gratuit), CIDDIST (Centre d'Information, de Dépistage et de Diagnostic des IST), accepter également CGIDD (Centre Gratuit d'Information de dépistage et de diagnostic des IST, créé depuis le 1<sup>er</sup> janvier 2016), Centre de planification, Planning Familial**

*(docteur, médecin pas acceptés)*

- 1.9 La consommation de substances psychoactives peut entraîner une conduite addictive. Définir le terme souligné.

0,5 point (toute autre réponse cohérente sera acceptée)

**C'est l'impossibilité répétée de contrôler un comportement** (0,25 pt) (consommation de produits : alcool, tabac, drogues... ou pratique d'une activité : travail, portable...) et **la poursuite de ce comportement en dépit de la connaissance** (0,25 pt) des conséquences négatives. L'addiction se caractérise par la dépendance.

*même si on sait que c'est dangereux pour la santé*

CAP	Code : 16-021	Session 2016	CORRIGÉ
Épreuve : Prévention, Santé, Environnement	Durée : 1 heure	Coefficient : 1	Page 3/8

1.10 Indiquer deux conséquences de la consommation de substances psychoactives sur le travail du salarié et deux conséquences sur l'entreprise. **1 point = 4 x 0,25**

- sur le travail du salarié : **(2 réponses au choix ou toute autre réponse cohérente)**  
**Perte de la vigilance, diminution de l'attention, prise de risque, mauvaise qualité du travail, baisse du rendement, comportement agressif, mauvaises relations avec les collègues.**
- Sur le fonctionnement de l'entreprise : **(2 réponses au choix ou toute autre réponse cohérente)**  
**Perte financière, accident du travail, retard dans la production, diminution de la productivité, augmentation de l'absentéisme, mauvaise ambiance, mauvaise image de l'entreprise.**

1.11.1 Repérer et souligner, dans le document 4, l'action qui représente le « principe de précaution ».

**0,25 point**

**Ikea suspend la vente de boulettes de viande après des malaises.**

**ou**

**L'enseigne Ikea a suspendu vendredi de la vente des boulettes de viande.**

1.11.2 Justifier l'intérêt de cette action.

**0,5 point**

**Les boulettes de viande peuvent contenir des bactéries ou toxines dangereuses pour le consommateur. En attendant le résultat des analyses, elles ne doivent pas être consommées. Ou toute autre réponse logique.**

1.11.3 Relever, dans le document 3, le nom de l'organisme public chargé de la sécurité alimentaire.

**0,5 point**

**La Direction départementale de protection de la population**

CAP	Code : 16-021	Session 2016	<b>CORRIGÉ</b>
Épreuve : Prévention, Santé, Environnement	Durée : 1 heure	Coefficient : 1	Page 4/8






1.12 Attribuer à chaque signe de qualité ci-dessous, deux aliments de la liste suivante :

- farine,
- saumon fumé,
- jambon de Bayonne,
- poulet,
- camembert de Normandie,
- crème dessert.

Chaque aliment n'est présent qu'une seule fois dans le tableau.

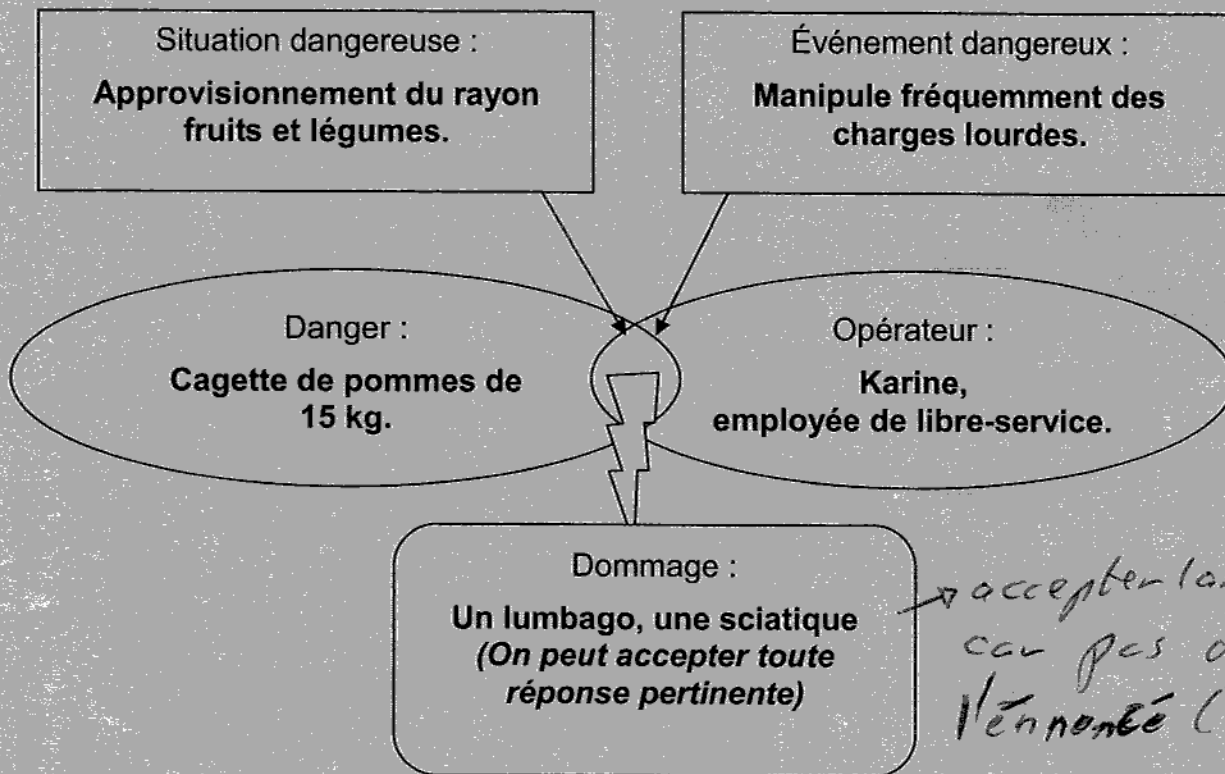
1,5 point = 6 x 0,25

Signes de qualité	Aliments
	<p><b>Poulet, saumon fumé</b></p> <p>(accepter Jambon de Bayonne s'il n'est pas inscrit dans la colonne IGP : indication géographique protégée – attribuer au maximum 2 x 0,25 point pour cette case)</p>
	<p><b>Farine, crème dessert</b></p> <p>(toutes les réponses peuvent être acceptées si elles ne sont inscrites que dans cette case – attribuer au maximum 2 x 0,25 point pour cette case)</p>
	<p><b>Jambon de Bayonne, camembert de Normandie</b></p>

**PARTIE 2 – 10 points**  
**PARTIE 2.1 – 8 points**

**2.1.1** À l'aide des éléments soulignés et de vos connaissances, complétez le schéma d'apparition du dommage ci-dessous.

**2,5 points = 5 x 0,5**



**2.1.2** Indiquer la démarche que doit faire l'employée. Préciser le délai à respecter.

**0,5 point = 2 x 0,25**

**Prévenir son employeur de l'accident du travail dans un délai de 24 heures.** (1 jour = faux)

**2.1.3** Indiquer la démarche que doit faire son employeur. Préciser le délai à respecter.

**0,5 point = 2 x 0,25**

**Déclarer l'accident du travail à la CPAM dans un délai de 48 heures.** (55)

**2.1.4** En vous aidant du document 5, donner une définition de la manutention manuelle.

**0,25 point (toute réponse cohérente sera acceptée)**

**Toute opération (porter, pousser, tirer, lever, poser ou déposer des charges) exigeant un effort physique...**

**2.1.5** Relever, dans le document 5, les deux secteurs professionnels où les manutentions sont les plus fréquentes.

**0,5 point = 2 x 0,25**

**Le bâtiment et l'industrie.**

CAP	Code : 16-021	Session 2016	<b>CORRIGÉ</b>
Épreuve : Prévention, Santé, Environnement	Durée : 1 heure	Coefficient : 1	Page 6/8

2.1.6 Proposer, à l'aide du document 5, deux mesures de prévention des risques liés à la charge physique de travail. **1 point = 2 x 0,5 (accepter toute réponse cohérente)**

- Mettre à disposition des aides à la manutention (ou agir en priorité sur les opérations de manutention manuelle inutiles ou qui peuvent être facilement évitées)
- Alléger la charge

2.1.7 Donner la signification du sigle CHSCT. **1 point, 0 pt si un terme est inexact**

### Comité d'Hygiène, de Sécurité et des Conditions de Travail

2.1.8 À partir de la situation de Karine, indiquer si le CHSCT est obligatoire dans son entreprise. Justifier votre réponse.

**0,5 point = 2 x 0,25**

*0,25* *0,25*  
**Il est obligatoire car l'entreprise comprend plus de 50 salariés (ou l'entreprise comprend 59 employés).**

2.1.9 Indiquer un autre type de visite médicale obligatoire.

**0,25 point (1 réponse au choix)**

- La visite d'embauche
- La visite périodique (tous les 24 mois) – accepter visite annuelle

2.1.10 Cocher les situations relevant des missions du médecin du travail.

**1 point = 4 x 0,25 (moins 0,25 pt par erreur)**

- 0 si tout coché - 0,25 par erreur sur son total*
- ☐ Il délivre un arrêt de travail de 5 jours à un salarié.
  - ☒ Il assiste à une réunion du CHSCT dans une entreprise.
  - ☒ Il propose des mesures de prévention contre le bruit.
  - ☐ Il délivre une ordonnance de médicaments à un salarié.
  - ☒ Il reçoit, au cours d'une visite de reprise, une salariée après un congé de maternité.
  - ☐ Il donne son avis sur un plan de licenciement dans une entreprise.
  - ☒ Il propose un aménagement du poste de travail d'un salarié handicapé.



## PARTIE 2.2 – 2 points

2.2.1 Nommer, à l'aide de quatre verbes à l'infinitif, les actions menées par le collègue de Patrick (respecter l'ordre chronologiques). 1 point = 4 x 0,25

- ① Protéger
- ② Examiner
- ③ Alerter ou faire alerter
- ④ Secourir

) ordre non noté

2.2.2 Indiquer le geste de secours qui doit être pratiqué dans cette situation d'accident.

0,5 point

**Mettre la victime en Position Latérale de Sécurité ou sur le côté.**

**Accepter le sigle PLS.**

2.2.3 Proposer une mesure de prévention pour que ce type d'accident ne se reproduise pas.

0,5 point (1 réponse au choix ou toute autre réponse cohérente)

- Porter des chaussures antidérapantes ;
- Améliorer l'éclairage de la réserve ;
- Mettre à disposition du matériel de balisage de la zone dangereuse ;
- Former le personnel au chargement/maniement du transpalette (ou rappel des règles) ;
- Sensibiliser les salariés aux précautions à prendre en cas de produits répandus sur le sol ;
- Affichage.

CAP	Code : 16-021	Session 2016	<b>CORRIGÉ</b>
Épreuve : Prévention, Santé, Environnement	Durée : 1 heure	Coefficient : 1	Page 8/8